



# Diženi cilvēki diženā Valmierā

Apmeklējiet vietas, kas saistītas ar personībām, kuru gribas un gara spēks, cilvēku un dabas mīlestība, radošā dzirksts un neatlaidība ieaudusi īpašus rakstus Valmieras un Latvijas vēsturē.

Katrā vietā uzziniet skaitli, kas nepieciešams, lai zīmējuma lapā pareizajās vietās liktu punktus, kas kopā savilkti veidos īpašu kontūru.

Zīmējuma lapā dots piemērs un pamācība kontūras veidošanai, ko aicinām rūpīgi izpētīt un būt vērtīgiem veicot katru uzdevumu!



~ 8 km  ~ 4 h\*  ~ 2 h

## 1. Valmieras puikas (39)\*\*

Skulptūrā iemūžināti **Pāvila Rozīša** (1889-1937) romāna "Valmieras puikas" varoņi, jauniešu tēlos ietverot netiešu līdzību ar romāna autoru un viņa laikabiedriem – rakstnieku Linardu Laicenu (1883-1938) un tēlnieku Emīlu Melderi (1889 -1979).

*Cik dekoratīvu iegriezumu ir skulptūras "Valmieras puikas" pamata akmeņi? Atņemiet no šī skaitļa 6 un ierakstiet rezultātu uz līnijas:*

*Darba lapā ielieciet 1.punktu, skaitot no 18.punkta 2 rūtiņas pa kreisi un \_\_\_ rūtiņas uz leju!*

## 2. T. Ūdera iela 9

**Meklējiet šo ielu netālu no tilta pār Gauju – Krāču kaktā!**

**Teodors Ūders** (1868-1915) bija gleznotājs, reālisma un simbolisma grafiķis un pedagogs. Darbos atainojis zemnieku un zvejnieku ikdienu. Dēvēts par īpatni, bijis noslēpumains savrupa ceļa gājējs.

*Cik vārdu ir pirmajā rindā mākslinieka piemiņas plāksnē uz nama sienas T. Ūdera ielā 9? Ierakstiet uz līnijas:*

*Darba lapā ielieciet 2. punktu, skaitot no 1.punkta \_\_\_ rūtiņas uz leju!*

## 3. Skats pār Gauju uz Valmieras Mūzikas skolu (11)

**No T. Ūdera ielas 9 griezieties pa kreisi Pārgaujas ielā, lai sasniegtu pastaigu taku Gaujas krastā. Kad esat pie Gaujas, griezieties pa labi!**

Pāri Gaujas ūdens spogulim skatāma Valmieras Mūzikas skola. Savulaik Valmierā klavierspēli apguvusi izcilā pianiste **Jautrīte Putniņa** (1927-2017), kura padomju laikā represēta par savu politisko pārliecību un brīvdomību, bet 2010.gadā saņēmusi Lielo mūzikas balvu par mūža ieguldījumu.

*Cik Mūzikas skolas jumta logu vērsti uz Gauju? Izdaliet šo skaitli ar 4 un ierakstiet rezultātu uz līnijas:*

*Darba lapā ielieciet 3.punktu, skaitot no 2. punkta 2 rūtiņas pa kreisi un \_\_\_ rūtiņas uz leju!*

## 4. Vanšu tilts

**Turpiniet ceļu pa pastaigu taku, lai sasniegtu Vanšu tiltu!**

Bieži treniņus Valmieras Atpūtas parkā aizvadīja **Māris Štrombergs** (1987), divkārtējs olimpiskais čempions BMX riteņbraukšanā, divkārtējs pasaules čempions un trīskārtējs Eiropas čempions.

*Cik laternas stabu ir pie asfaltētā apļa Atpūtas parkā Vanšu tilta galā? Ierakstiet uz līnijas:*

*Darba lapā ielieciet 4.punktu, skaitot no 3.punkta \_\_\_ rūtiņu/-as uz leju!*

\* maršrutu iespējams dalīt divās daļās, lai ieturētu pusdienu pauzi. Plašāka iespēja par ēdināšanas iespējām Valmierā atrodama [visit.valmiera.lv](http://visit.valmiera.lv)

\*\* iekavās norādīts objekta numurs Valmieras pilsētas tūrisma kartē

## 5. Vidzemes Augstskola Tērbatas ielā 10

**No Vanšu tilta turpiniet ceļu taisni pa taku Atpūtas parkā līdz Lucas ielai un tālāk – Tērbatas ielai! Skatiet īsāko ceļu kartē.**

Diskusijas Latvijā un ārvalstīs izraisījuši Vidzemes Augstskolas rektora **Gata Krūmiņa** pētījumi par padomju okupācijas režīma saimniecisko politiku Baltijā. Viņš ir grāmatu "Deviņu vīru spēks" un "Latvijas tautsaimniecības vēsture" sastādītājs un zinātniskais redaktors.

*Cik vietu ir garākajā velo novietnē augstskolas iekšpagalmā? Izdaliet šo skaitli ar 12 un ierakstiet rezultātu uz līnijas:*

*Darba lapā ielieciet 5.punktu, skaitot no 4. punkta 7 rūtiņas pa kreisi un \_\_\_ rūtiņas uz leju!*

## 6. Dzirnau ezeriņa (22) promenāde pie Valmieras 5.vidusskolas

Savulaik šeit skolas gaitās gājis gleznotājs **Jānis Kalmīte** (1907-1996) – viņš absolvējis Valmieras komercskolu (tās ēkā mūsdienās darbojas 5.vidusskola). Darbos atveidojis lauku dzīves ainavas un priekšmetus kā tautas vēstures, gara, darba tikuma un spēka simbolus, protestējot pret Latvijas un tās kultūras iznīcināšanu apspiestības gados.

*Cik dzeltenu solu ir pie Dzirnau ezeriņa promenādes iepretim Valmieras 5.vidusskolai? Ierakstiet uz līnijas:*

*Darba lapā ielieciet 6. punktu, skaitot no 5.punkta 2 rūtiņas uz leju un \_\_\_ rūtiņu/-as pa kreisi!*

## 7. Saules pulkstenis Dzirnau ezeriņa promenādē pie K.Baumaņa ielas

Kārļa Baumaņa iela Valmierā godina himnas "Dievs, svētī Latviju" autoru. **Baumaņu Kārlis** (1835-1905) dzimis Viļķenē, tolaik – Vidzemes guberņas Valmieras apriņķī. Viņš bija jaunlatviešu sabiedriskās kustības darbinieks un aktīvi piedalījās Pirmo vispārīgo latviešu dziedāšanas svētku rīkošanā.

*Cik bruģakmeņu ar cipariem izmantoti vides objektā "Saules pulkstenis"? Atņemiet no šī skaitļa 4 un ierakstiet rezultātu uz līnijas:*

*Darba lapā ielieciet 7.punktu, skaitot no 6.punkta 1 rūtiņu uz leju un \_\_\_ rūtiņas pa kreisi!*

## 8. Vecpuišu parks (29) starp Rīgas ielu 15 un 19

Rīgas ielā 15/17 savulaik stalti slējās tirgotāja **Andreja Kampes** (1867 -1919) dzimtas nams. 1918.gada 17.novembrī valmierieši nodeva 5000 rubļu Latvijas valsts idejas atbalstam. A.Kampi, kurš bija ziedojis summas lielāko daļu, uzskatīja par pirmo neatkarīgās Latvijas materiālo atbalstītāju, par ko 1919.gadā padomju varas kalpi viņu sodīja ar nāvi.

*Cik "U" burtu ir pirmajā vārdā koka plāksnītē uz pelēkā norādes staba, kas uzstādīts starp Rīgas ielu 15 un 19? Ierakstiet uz līnijas:*

*Darba lapā ielieciet 8. punktu, skaitot no 7.punkta 3 rūtiņas uz leju un \_\_\_ rūtiņas pa kreisi!*

## 9. Vecpuišu parks pie G. Apiņa ielas

Ārsts un mecenāts **Georgs Apinis** (1859-1920) bija viens no astoņiem vecpuišiem, kuri ziedoja katrs pa 1000 rubļiem pilsētas parka izveidei, ko valmierieši drīz vien nodēvēja par Vecpuišu parku. Salīdzinājumam – tolaik valsts apmaksāts ārsts mēnesī nopelnīja 60 cara rubļus. No 1906. līdz 1910.gadam G.Apinis bija Valmieras pilsētas galva.

*Cik egļu aug rindā pie Georga Apiņa un Rīgas ielas krustojuma (blakus kino "Gaisma")? Ierakstiet uz līnijas:*

*Darba lapā ielieciet 9.punktu, skaitot no 8.punkta 2 rūtiņas uz leju un \_\_\_ rūtiņas pa kreisi!*

## 10. Ūdenspumpis Vecpuišu parkā

Vecpuišu parks sniedz atspirdzinājumu gājējiem un velobraucējiem, savulaik arī **Eduardam Lāceram**, vienam no vecpuišiem – parka mecenātiem, ievērojamam sportistam, aktīvam riteņbraukšanas ekskursiju rīkotājam. E.Lācers bija viens no Valmieras sporta biedrības dibinātājiem.

*Ap ūdenspumpja augšdaļu ciešā rindā izvietotas dekoratīvas puslodītes – cik to ir? Atņemiet no šī skaita 10 un ierakstiet rezultātu uz līnijas:*

*Darba lapā ielieciet 10.punktu, skaitot no 9.punkta \_\_\_ rūtiņas uz leju!*

## 11. Lūča egļu Vecpuišu parkā pie L. Paegles ielas

Aktieris, režisors un skatuves mākslas pedagogs **Pēteris Lūcis** (1907-1991) bija Valmieras teātra galvenais režisors no 1957. līdz 1991.gadam. 1939.gadā viņš attēloja Oskaru Kļavu pirmajā latviešu pilnmetrāžas skaņu spēlfilmā "Zvejnieka dēls".

*Cik burtu "e" ir otrās rindas pēdējā vārdā latviešu valodas tekstā piemiņas zīmē pie P.Lūča stādītās egles Vecpuišu parkā? Ierakstiet uz līnijas:*

*Darba lapā ielieciet 11.punktu, skaitot no 10.punkta 10 rūtiņas pa labi un \_\_\_ rūtiņu/-as uz leju!*

## 12. Pilsētas kapi, L. Paegles un Miera ielas krustojums

Pilsētas kapos atdusas dzejnieks **Rieteklis** (Jūlijs Eduards Balodis, 1856-1940), kurš mantojumā atstājis iemīļotas dzejas rindas: "Še, kur līgo priežu meži, esmu dārgām saitēm siets. Še ir mana tēvuzeme, esmu dzimis gaujmalietis."

*Cik ieejas vārtiņu Pilsētas kapos ir no L.Paegles ielas puses? Ierakstiet uz līnijas:*

*Darba lapā ielieciet 12. punktu, skaitot no 11.punkta 4 rūtiņas pa labi un \_\_\_ rūtiņu/-as uz augšu!*

## 13. Valmieras Valsts ģimnāzija (33)

Līdz 1917.gadam šeit atradās skolotāju seminārs, kas celts no 1901. līdz 1903. gadam (arhitekts Aleksejs Kizelbašs). Tajā mācījās tādi zināmi literāti kā Leons Paegle, Jānis Ezeriņš un gleznotājs Gustavs Klucis.

*No L.Paegles ielas redzama viena no Skulptūru dārza skulptūrām (skatoties pa labi no ģimnāzijas ēkas) – cik ovālas formas akmeņu ir tās augšpusē? Ierakstiet uz līnijas:*

*Darba lapā ielieciet 13. punktu, skaitot no 12.punkta 3 rūtiņas pa labi un \_\_\_ rūtiņu/-as uz leju!*

## 14. "Valmieras suvenīrs" Ģīmes dabas takā (49)

Komponists un pedagogs, latviešu klasiskās mūzikas pamatlicējs **Jāzeps Vītols** (1863-1948) dzimis Valmierā – Ģīmes dzirnavās. Komponists pilsētai veltījis skaņdarbu "Valmieras suvenīrs".

*Cik nošu lapas attēlotas skaņdarbam "Valmieras suvenīrs" veļtītājā informācijas stendā Ģīmes dabas takas sākumā? Sareiziniet šo skaitu ar 2 un ierakstiet rezultātu uz līnijas:*

*Darba lapā ielieciet 14. punktu, skaitot no 13.punkta \_\_\_ rūtiņas pa labi!*

## 15. Ģīmes dabas taka (49)

Dabas pētnieks barons **Haralds Loudons** (1876-1959) dzimis Valkas apriņķī. Izveidojis bagātīgu ornitoloģisko bibliotēku un putnu izbāzeņu kolekciju. Pētījis putnu pavasara migrāciju arī Valmieras apkārtnē.

Jaunbrenģuļos dzimušais Loudona skolnieks **Nikolajs von Tranzē** (1886-1969) 1925.gadā nodibināja Latvijas ornitoloģijas centrāli un 1936. gadā sadarībā ar ārstu R.Sinātu izdeva grāmatu "Latvijas putni", kas bija pirmais ilustrētais putnu noteicējs latviešu valodā.

*Apmeklējiet Ūdens stendu Nr.2 un saskaitiet, kāda ir raudas un akmeņgrauža numuru summa! Ierakstiet rezultātu uz līnijas:*

*Darba lapā ielieciet 15.punktu, skaitot no 14.punkta \_\_\_ rūtiņas uz augšu!*

## 16. Jaunatnes centrs "Vinda"

1909.gadā ar Georga Apiņa atbalstu šajā namā darbu sāka Valmieras sieviešu ģimnāzija. Ēku projektējis Vidzemes guberņas mācību apgabala arhitekts Aleksejs Kizelbašs, kurš ir arī Valmieras Valsts ģimnāzijas projekta autors.

*Uz ēkas ķieģeļiem piestiprināts mājas numurs. Kāda ir abu norādīto ciparu starpība? Ierakstiet uz līnijas:*

*Darba lapā ielieciet 16.punktu, skaitot no 15.punkta 2 rūtiņas pa kreisi un \_\_\_ rūtiņas uz augšu!*

## 17. Skulptūra "Gaismas strūklaka" (27) pie Rīgas ielas 10

Skulptūras autors **Andris Vārpa** (1950) organizējis un vadījis granīta tēlniecības simpozijus Valmierā, un ir vairāku pilsētā izvietotu tēlniecības objektu autors. Rīgā skatāmas viņa darinātās Kārļa Padega un Voldemāra Irbes skulptūras.

*Cik gaismas diodes (apaļe apgaismes elementi) izmantotas skulptūrā? Izdaliet šo skaitu ar 8 un ierakstiet rezultātu uz līnijas:*

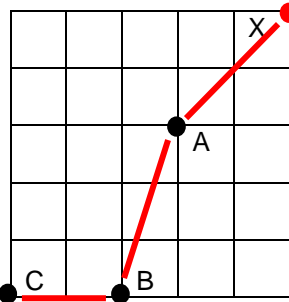
*Darba lapā ielieciet 17.punktu, skaitot no 16.punkta \_\_\_ rūtiņas uz augšu!*

Jautājumu un neskaidrību gadījumā pastaigas laikā aicinām sazināties ar Valmieras Tūrisma informācijas centru (TIC)!

**Valmieras TIC tālrunis: 26332213**

# Atjautīgās pastaigas zīmējuma lapa

Lieciet punktus, velciet līnijas, atklājiet kontūru!



## PIEMĒRS:

- A. 2 rūtiņas pa kreisi un 2 rūtiņas uz leju no sākuma punkta X
- B. 1 rūtiņa pa kreisi un 3 rūtiņas uz leju no punkta A
- C. 2 rūtiņas pa kreisi no punkta B

## UZDEVUMS:

- 1) aplūkojiet piemēru;
- 2) lieciet punktus rūtiņu laukumā atbilstoši objekto iegūtajam norādēm;
- 3) savienojiet punktus numerācijas secībā pa taisnāko ceļu – kā norādīts ar sarkano līniju piemērā;
- 4) savienojiet 18.punktu ar 1.punktu!

**SĀCIET ŠEIT!**

18

